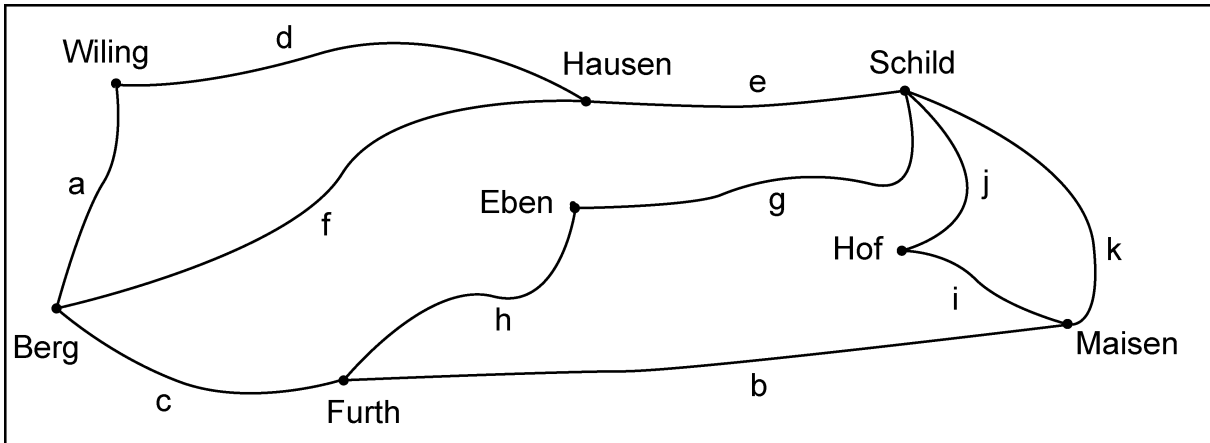
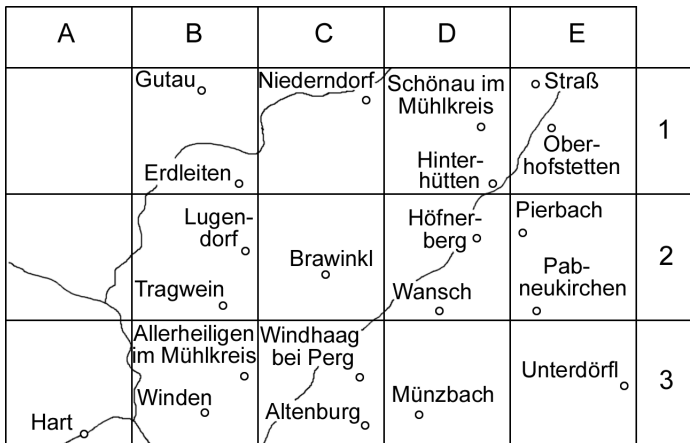


1. Schreib eine mögliche Fahrtroute auf! Trag die Buchstaben in die Tabelle ein!



Hausen → Hof		Furth → Hausen	
Wiling → Maisen		Schild → Berg	
Eben → Wiling		Maisen → Hausen	
Eben → Furth		Berg → Eben	



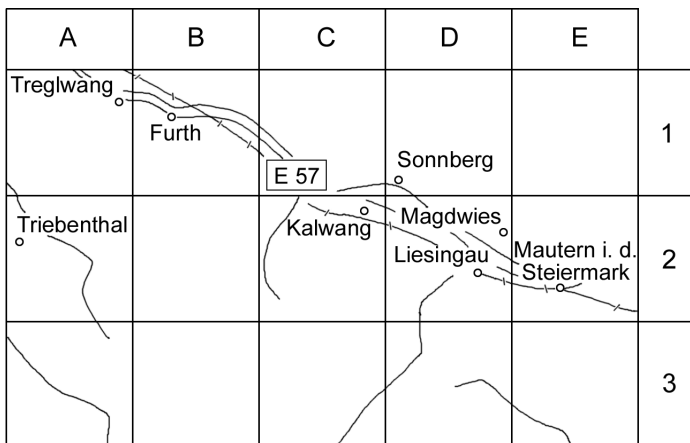
2. Such den jeweiligen Ort!
Trag die Rasterfelder ein!

Münzbach _____

Tragwein _____

Oberhofstetten _____

Unterdörf _____



3. Such den jeweiligen Ort!
Trag die Rasterfelder ein!

Triebenthal _____

Furth _____

Treglwang _____

Kalwang _____