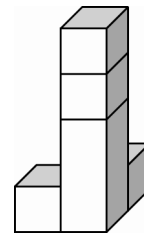


Wie viele Kanten und Steckkugeln brauchst du, um diesen Quader zu ergänzen?

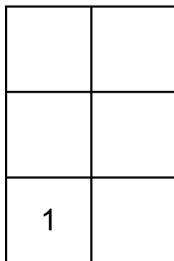
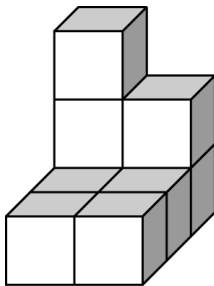
\_\_\_ Steckkugeln  
\_\_\_ Kanten



Aus wie vielen Quadern und Würfeln besteht dieses Bauwerk

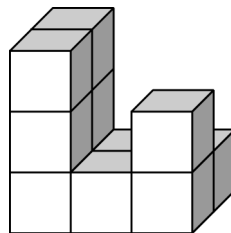
\_\_\_ Quader  
\_\_\_ Würfel

Erstelle einen Bauplan für dieses Bauwerk!



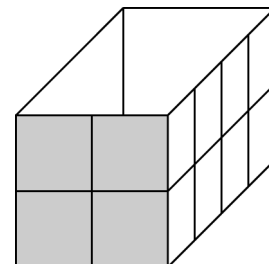
Aus wie vielen Würfeln besteht dieses Bauwerk?

\_\_\_ Würfel



Wie viele Würfel passen in diese Schachtel?

\_\_\_ Würfel

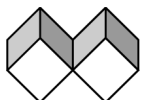


Martin stellt auf einen roten Quader einen blauen Quader. Wie viele rote und blaue Flächen sind insgesamt sichtbar?

Es sind \_\_\_ rote Flächen sichtbar.

Es sind \_\_\_ blaue Flächen sichtbar.

Miriam klebt zwei gleich große Würfel an jeweils einer Kante zusammen. Wie viele Flächen kann sie anmalen?



Miriam kann \_\_\_\_\_ anmalen.