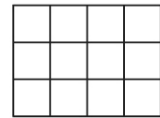
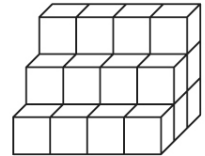
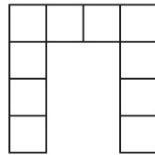
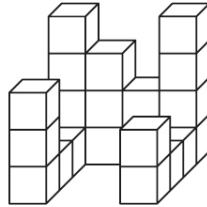
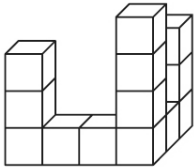


- 1) Das ist ein Würfelgebäude:
Es besteht aus 4 Würfeln.

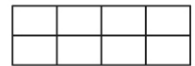

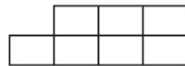

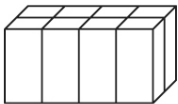


Der Bauplan gibt jeweils die Anzahl der übereinander liegenden Würfel an: →

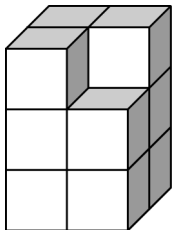
Andere Würfelgebäude und die passenden Baupläne: Setze die Anzahl der Würfel ein!

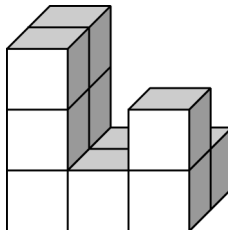


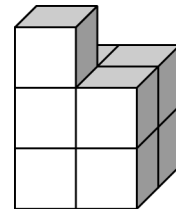
- 2) Diese Quader hinterlassen Abdrücke ihrer Flächen. Welcher Abdruck passt zu diesem Turm? Kreuze ihn an!



- 3) Aus wie vielen Würfeln bestehen diese Bauwerke?







- 4) Aus wie vielen Würfeln und Quadern besteht dieses Bauwerk?

