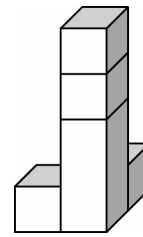


Wie viele Kanten und Steckkugeln brauchst du, um diesen Quader zu ergänzen?

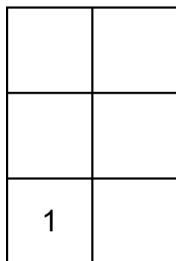
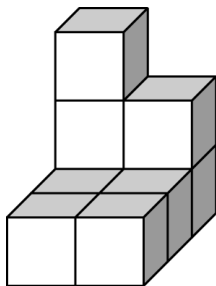
___ Steckkugeln
___ Kanten



Aus wie vielen Quadern und Würfeln besteht dieses Bauwerk

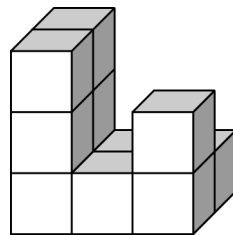
___ Quader
___ Würfel

Erstelle einen Bauplan für dieses Bauwerk!



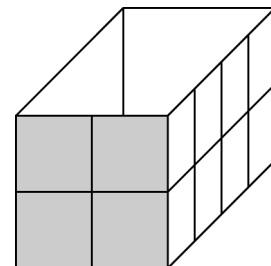
Aus wie vielen Würfeln besteht dieses Bauwerk?

___ Würfel



Wie viele Würfel passen in diese Schachtel?

___ Würfel



Martin stellt auf einen roten Quader einen blauen Quader. Wie viele rote und blaue Flächen sind insgesamt sichtbar?

Es sind ___ rote Flächen sichtbar.

Es sind ___ blaue Flächen sichtbar.

Miriam klebt zwei gleich große Würfel an jeweils einer Kante zusammen. Wie viele Flächen kann sie anmalen?



Miriam kann _____ anmalen.