



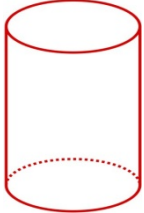
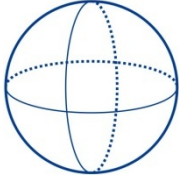
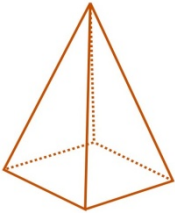
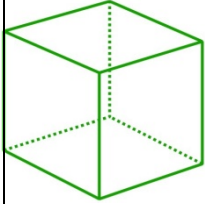
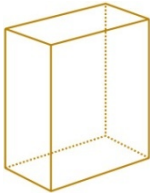
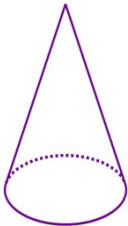


1. Flächen – Wie heißen diese Flächen?

2. Körper

Wie heißen die einzelnen Körper? Wie viele Ecken/Kanten und Flächen haben sie?

					
Z					
Ecken	Ecken	Ecken	Ecken	Ecken	Ecken
Kanten	Kanten	Kanten	Kanten	Kanten	Kanten
Flächen	Flächen	Flächen	Flächen	Flächen	Flächen
Grundfläche					

3. Zu welchem Körper gehört das Netz – Verbinde!

Würfel	Pyramide	Quader
--------	----------	--------

